

电动力学学习题课

第二章 静电场

Cheng-Zong Ruan

chzruan@mail.bnu.edu.cn



Department of Astronomy, BNU
October 16, 2018

第二章作业

- ▶ 教材第 2.1 节例题 1-3, 2.3 节例题 3.
- ▶ 讲义http://astrowww.bnu.edu.cn/sites/hubin/bh_bnu_homepage/teaching/ED_lecture2.pdf 第 24/25 页电势 φ 绘图.
- ▶ 教材 2.4 节例题 2/3, 2.5 节例题.
- ▶ 教材第二章习题 1-6, 8-14, 16, 18.

分离变量法

- ▶ 没有自由电荷区域的电势 φ 、拉普拉斯方程 $\nabla^2\varphi = 0$ 的轴对称通解:

$$\varphi(R, \theta) = \sum_n \left(a_n R^n + \frac{b_n}{R^{n+1}} \right) P_n(\cos \theta),$$

寻找边界条件确定系数 a_n, b_n .

- ▶ **例题 2.1** (空心带电导体球壳包围着接地导体球):

- ▶ 无自由电荷区域: $R_1 < R < R_2; R > R_3$

- ▶ 电荷局域分布 (没有无穷大的带电体)—— $\varphi|_{R \rightarrow \infty} = 0$;

- ▶ 导体球接地—— $\varphi|_{\text{导体球}} = 0$;

- ▶ 球壳的 (自由) 电荷量已知为 Q —— $Q/\varepsilon_0 = \oint_{\text{表面}} \mathbf{E} \cdot d\mathbf{S} = \oint_{\text{表面}} (-\nabla\varphi) \cdot d\mathbf{S}$ 已知

分离变量法

▶ 例题 2.2 (均匀介质球置于匀强外电场) :

- ▶ 无自由电荷区域: 全空间!
- ▶ 无穷远处电势的渐进行为已知—— $\varphi|_{R \rightarrow \infty} = \text{匀强电场的电势} = -E_0 R P_1(\cos \theta)$;
- ▶ $R = 0$ 处电势不发散——杀死 $1/R^{n+1}$ 项;
- ▶ 介质-真空界面处的衔接条件—— $\varphi|_{R_0^-} = \varphi|_{R_0^+}$; $\epsilon \nabla \varphi \cdot \hat{n} = \sigma$ (教材 (2.2) 式)。

▶ 例题 2.3 (接地导体球置于匀强外电场) :

- ▶ 无自由电荷区域: 全空间!
- ▶ 无穷远处电势的渐进行为已知—— $\varphi|_{R \rightarrow \infty} = \text{匀强电场的电势} = -E_0 R P_1(\cos \theta)$;
- ▶ $R = 0$ 处电势不发散——杀死 $1/R^{n+1}$ 项;
- ▶ 导体-真空界面处的衔接条件—— $\varphi|_{R_0} = \text{const.}$; $\epsilon \partial \varphi / \partial n = -\sigma$ 。

分离变量法

- ▶ **习题 2.2(1)** (接电池的均匀导体球置于匀强外电场) :
 - ▶ 无自由电荷区域: 全空间!
 - ▶ 无穷远处电势的渐进行为已知—— $\varphi|_{R \rightarrow \infty} = -E_0 R P_1(\cos \theta) + \varphi_0$;
 - ▶ ($R = 0$ 处是导体内、电势为常量);
 - ▶ 导体-真空界面处的衔接条件 (导体接电池电势已知)—— $\varphi|_{R_0} = \Phi_0$.
- ▶ **习题 2.2(2)** (电荷量已知的均匀导体球置于匀强外电场) :
 - ▶ 无自由电荷区域: $R > R_0$
 - ▶ 无穷远处电势的渐进行为已知—— $\varphi|_{R \rightarrow \infty} = \text{匀强电场的电势} = -E_0 R P_1(\cos \theta)$;
 - ▶ 导体球的 (自由) 电荷量已知—— $Q = \oint_{\text{表面}} \mathbf{D} \cdot d\mathbf{S} = \oint_{R=R_0} (-\varepsilon_0 \nabla \varphi) \cdot d\mathbf{S}$ 已知
 - ▶ 导体-真空界面处的衔接条件—— $\varphi|_{R_0} = \text{const.} \equiv \Phi_0$.

分离变量法

► 习题 2.3 (中心有点电荷的均匀介质球) :

- 新的套路: 总电势 = 自由电荷电势 + 极化电荷电势, $\varphi_{\text{tot}} = \frac{Q_f}{4\pi\epsilon R} + \varphi'$ (本题的自由电荷电势容易求); $\nabla^2\varphi' = 0$
- 无自由电荷区域: 全空间 (除了原点)! 分为介质球内 (φ_1) 外 (φ_2);
- 原点处有电偶极子—— $\varphi_1|_{R\rightarrow 0} = \infty$;
- 无穷远处电势的渐进行为已知—— $\varphi_2|_{R\rightarrow\infty} = 0$;
- 介质-真空界面处的衔接条件——

$$\epsilon_1 \frac{\partial\varphi_1}{\partial R} = \epsilon_2 \frac{\partial\varphi_2}{\partial R} \quad \text{at } R = R_0 .$$

分离变量法

▶ 习题 2.4 (中心有电偶极子的均匀介质球) :

▶ 总电势 = 电偶极子电势 + 极化电荷电势, $\varphi_{\text{tot}} = \frac{\mathbf{p}_f \cdot \mathbf{R}}{4\pi\epsilon_1 R^3} + \varphi'$ (本题的自由电荷电势容易求);
 $\nabla^2 \varphi' = 0$

▶ 无自由电荷区域: 全空间 (除了原点)! 分为介质球内 (φ'_1) 外 (φ'_2);

▶ 原点处有电偶极子—— $\varphi_1|_{R \rightarrow 0} = \infty$;

▶ 无穷远处电势的渐进行为已知—— $\varphi_2|_{R \rightarrow \infty} = 0$;

▶ 介质-真空界面处的衔接条件——

$$\epsilon \frac{\partial \varphi_1}{\partial R} = \epsilon_0 \frac{\partial \varphi_2}{\partial R} \quad \text{at } R = R_0 .$$

▶ 极化电荷面密度

$$\sigma_p = \epsilon_0 \hat{\mathbf{R}} \cdot (\mathbf{E}_2 - \mathbf{E}_1) = \epsilon_0 \hat{\mathbf{R}} \cdot (-\nabla \varphi_2 - (-\nabla \varphi_1)) .$$

分离变量法

▶ 习题 2.5 (中心有电偶极子、带电荷量已知为 Q 的空心导体球壳) :

- ▶ 总电势 = 电偶极子电势 + 极化电荷电势, $\varphi_{\text{tot}} = \frac{p_f \cdot R}{4\pi\epsilon_1 R^3} + \varphi'$ (本题的自由电荷电势容易求);
 $\nabla^2 \varphi' = 0$
- ▶ 无自由电荷区域: $0 < R < R_1, R > R_2$;
- ▶ 原点处有电偶极子—— $\varphi|_{R \rightarrow 0} = \infty$;
- ▶ 无穷远处电势的渐进行为已知—— $\varphi|_{R \rightarrow \infty} = 0$;
- ▶ 导体-真空界面的衔接条件—— $\varphi_1 = \varphi_2$
- ▶ 球壳的(自由)电荷量已知为 Q —— $Q/\epsilon_0 = \oint_{\text{表面}} \mathbf{E} \cdot d\mathbf{S} = \oint_{\text{表面}} (-\nabla\varphi) \cdot d\mathbf{S}$ 已知

分离变量法

► 习题 2.6 (均匀电场中、均匀带电的介质球) :

- 总电势 = 自由电荷电势 + 极化电荷电势; 本题的自由电荷电势可解!

$$\varphi_1^{\text{tot}} = \varphi_1^f + \varphi_1' (R < R_0); \quad \varphi_2^{\text{tot}} = \varphi_2^f + \varphi_2' (R > R_0).$$

- $\nabla^2 \varphi_1' = 0 (R < R_0); \quad \nabla^2 \varphi_2' = 0 (R > R_0);$

- 球对称的自由电荷电势解:

$$\varphi_1^f = \frac{\rho_f}{6\epsilon} (R_0^2 - R^2) + \frac{\rho_f R_0^2}{3\epsilon_0} (R < R_0); \quad \varphi_2^f = \frac{\rho_f R_0^3}{3\epsilon_0 R} (R > R_0); \quad (\text{推导?})$$

- $R = 0$ 处电势有限—— $\varphi_1|_{R=0} = \text{有限值};$
- 无穷远处电势的渐进行为已知—— $\varphi_2|_{R \rightarrow \infty} = -E_0 R P_1(\cos \theta);$
- 介质-真空界面 $R = R_0$ 的衔接条件——

$$\varphi_2 = \varphi_1, \quad \epsilon_0 \frac{\partial \varphi_2}{\partial R} = \epsilon \frac{\partial \varphi_1}{\partial R}.$$

分离变量法 - 习题 2.6

- ▶ 轴对称通解 (已经考虑了 $R=0$ 与 $R \rightarrow \infty$ 处解的行为) :

$$R < R_0 : \quad \varphi_1 = \frac{\rho_f}{6\epsilon} (R_0^2 - R^2) + \frac{\rho_f R_0^2}{3\epsilon_0} + \sum_{n=0}^{\infty} a_n R^n P_n(\cos \theta) \quad (1)$$

$$R > R_0 : \quad \varphi_2 = \frac{\rho_f R_0^3}{3\epsilon_0 R} - E_0 R P_1(\cos \theta) + \sum_{n=0}^{\infty} \frac{d_n}{R^{n+1}} P_n(\cos \theta) \quad (2)$$

- ▶ 将衔接条件 $\varphi_1|_{R=R_0} = \varphi_2|_{R=R_0}$ 带入得到:

$$\sum_{n=0}^{\infty} a_n R_0^n P_n = -E_0 R P_1 + \sum_{n=0}^{\infty} \frac{d_n}{R_0^{n+1}} P_n \quad (3)$$

分离变量法 - 习题 2.6

- ▶ 将衔接条件 $\varphi_1|_{R=R_0} = \varphi_2|_{R=R_0}$ 带入得到:

$$\sum_{n=0}^{\infty} a_n R_0^n P_n = -E_0 R P_1 + \sum_{n=0}^{\infty} \frac{d_n}{R_0^{n+1}} P_n \quad (4)$$

- ▶ P_1 项: $a_1 R_0 = -E_0 R_0 + \frac{d_1}{R_0^2}$;
- ▶ $P_n (n = 0, 2, 3, 4, \dots)$ 项: $a_n R_0^n = \frac{d_n}{R_0^{n+1}}$.

分离变量法 - 习题 2.6

- ▶ 将衔接条件 $\varepsilon_0 \left. \frac{\partial \varphi_2}{\partial R} \right|_{R_0} = \varepsilon \left. \frac{\partial \varphi_1}{\partial R} \right|_{R_0}$ 带入得到:

$$\varepsilon \left[-\frac{\rho_f R_0}{3\varepsilon} + \sum_{n=1}^{\infty} n a_n R_0^{n-1} P_n \right] = \varepsilon_0 \left[-\frac{\rho_f R_0}{3\varepsilon_0} - E_0 P_1 - \sum_{n=0}^{\infty} \frac{(n+1) d_n}{R_0^{n+2}} P_n \right] \quad (5)$$

- ▶ P_0 项: $d_0 = 0$;

▶ P_1 项: $\varepsilon a_1 = \varepsilon_0 \left[-\frac{2d_1}{R_0^3} - E_0 \right]$

▶ $P_n (n \geq 2)$ 项: $\varepsilon n a_n R_0^{n-1} = -\frac{\varepsilon_0 (n+1) d_n}{R_0^{n+2}}$.

分离变量法 - 习题 2.6

- ▶ P_0 项: $a_0 = d_0/R_0$;
- ▶ P_1 项: $a_1 R_0 = -E_0 R_0 + \frac{d_1}{R_0^2}$;
- ▶ $P_n (n \geq 2)$ 项: $a_n R_0^n = \frac{d_n}{R_0^{n+1}}$.

- ▶ P_0 项: $d_0 = 0$;
- ▶ P_1 项: $\varepsilon a_1 = \varepsilon_0 \left[-\frac{2d_1}{R_0^3} - E_0 \right]$
- ▶ $P_n (n \geq 2)$ 项:
$$\varepsilon n a_n R_0^{n-1} = -\frac{\varepsilon_0 (n+1) d_n}{R_0^{n+2}}.$$

$$a_0 = d_0 = 0; \quad a_1 = -\frac{3\varepsilon_0 E_0}{\varepsilon + 2\varepsilon_0}; \quad d_1 = E_0 R_0^3 \frac{\varepsilon - \varepsilon_0}{\varepsilon + 2\varepsilon_0}$$

$$a_n = d_n = 0 \quad (n \geq 2)$$

分离变量法

- ▶ “学过偏微分方程吗?”

“学过（在数学物理方法课上）”

- ▶ “*Sobolev* 空间是啥?”

“呃…其实没学过偏微分方程，只学过分离变量法…”

- ▶ “那好吧，请问为什么 *Sturm-Liouville* 型 *ODE* 的本征函数系是正交的?”

“呃…其实我只会解系数……”

- ▶ “没关系，没关系，请说一下解系数的时候用广义幂级数展开的适用条件?”

“呃……其实解系数我也不大会……”



作者：Tony Shi; <https://www.zhihu.com/question/269693413/answer/503981850>; 略有改动

电像法

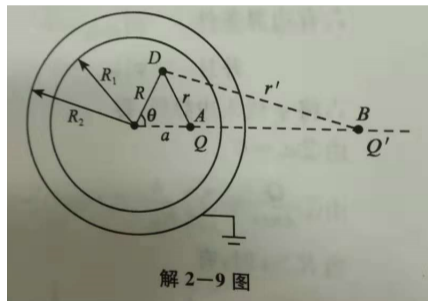
- ▶ 求解点电荷在部分空间区域 \mathcal{V} 的电势
- ▶ 区域 \mathcal{V} 的边界条件比较简单
- ▶ (例: $\varphi|_{\text{导体板}} = \text{const.}$ 、 $\varphi|_{\text{接地导体板}} = 0$)
- ▶ 寻找位于区域 \mathcal{V} 之外合适位置的镜像电荷 (电像), 使得电像 + 区域内电荷产生相同的边界条件
- ▶ 唯一性定理: 同一个边界条件、同一个电场



电像法 - 习题 2.9

9. 接地的空心导体球的内外半径为 R_1 和 R_2 , 在球内离球心为 a ($a < R_1$) 处置一点电荷 Q . 用镜像法求电势. 导体球上的感应电荷有多少? 分布在内表面还是外表面?

- ▶ 区域: 球状区域 $0 < r < R_1$
- ▶ 边界条件: $\varphi|_{r=R_1} = 0$
- ▶ 在区域外 ($r > R_1$) 寻找像电荷。。



摘自《电动力学 (第三版) 全程导学及习题全解》，金硕等编著，中国时代经济出版社，第 58 页

电像法 - 习题 2.10

▶ 习题 2.10 第一问 (导体球壳带总电荷 Q_0)

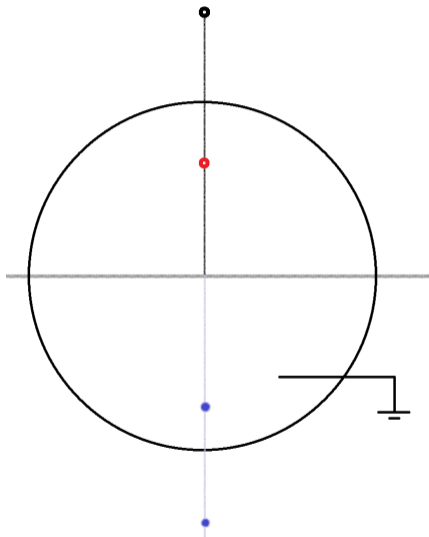
- ▶ 区域: 球状区域 $0 < r \leq R_1$ ($R_1 < r < R_2$ 处导体电势恒定; $r > R_2$ 处电势容易计算 (球对称分布))
- ▶ 边界条件: $\varphi|_{r=R_1} = \frac{Q+Q_0}{4\pi\epsilon_0 R_2}$ (未知常量);
- ▶ 在区域外 ($r > R_1$) 寻找像电荷。

- 习题 2.10 第二问 (导体球壳电势固定为 φ_0)


- 区域: 球状区域 $0 < r \leq R_1$ ($R_1 < r < R_2$ 处导体电势恒定; $r > R_2$ 处电势容易计算 (球对称分布))
- 边界条件: $\varphi|_{r=R_1} = \varphi_0$ (未知常量);
- 在区域外 ($r > R_1$) 寻找像电荷。

电像法 - 习题 2.11

- ▶ 半球状凸起的接地导体板 = 接地导体板 + 接地导体球
- ▶ 真实电荷（黑）+ 真实电荷在导体球的像电荷（红）+ 真实电荷、真实电荷在导体球的像电荷在导体板的像电荷（蓝 $\times 2$ ）



电像法 - 习题 2.12



习题 2.16

$$\varphi = \int_V \frac{\mathbf{P}(\mathbf{x}') \cdot \mathbf{r}}{4\pi\epsilon_0 r^3} dV'$$

另外,根据极化电荷公式 $\rho_P = -\nabla' \cdot \mathbf{P}(\mathbf{x}')$ 及 $\sigma_P = \mathbf{e}_n \cdot \mathbf{P}$,极化介质所产生的电势又可表为

$$\varphi = -\int_V \frac{\nabla' \cdot \mathbf{P}(\mathbf{x}')}{4\pi\epsilon_0 r} dV' + \oint_S \frac{\mathbf{P}(\mathbf{x}') \cdot d\mathbf{S}'}{4\pi\epsilon_0 r}$$

试证明以上两表达式是等同的.

【证】由高斯定理,(2)式右边第二项面积分可化为

$$\begin{aligned} \oint_S \frac{\mathbf{P}(\mathbf{x}') \cdot d\mathbf{S}'}{4\pi\epsilon_0 r} &= \int_V \nabla' \cdot \frac{\mathbf{P}(\mathbf{x}')}{4\pi\epsilon_0 r} dV' \\ &= \int_V \frac{\nabla' \cdot \mathbf{P}(\mathbf{x}')}{4\pi\epsilon_0 r} dV' + \int_V \frac{\mathbf{P}(\mathbf{x}') \cdot \mathbf{r}}{4\pi\epsilon_0 r^3} dV' \end{aligned} \quad (3)$$

其中已利用到 $\nabla'(1/r) = \mathbf{r}/r^3$,将(3)代入(2)式,即得(1)式.

分离变量法 - 习题 2.18

上半球电势 φ_0 、下半球电势 $-\varphi_0$ 的奇怪球面

- ▶ 无自由电荷区域：全空间（分为球内 φ_1 和球外 φ_2 ）!
- ▶ $R = 0$ 处电势有限—— $\varphi_1|_{R=0} = \text{有限值}$;
- ▶ 无穷远处电势的渐进行为已知—— $\varphi_2|_{R \rightarrow \infty} = 0$;
- ▶ 上/下半球面 $R = R_0, \theta > \text{or} < \pi/2$ 的边界条件——

$$\varphi_1 = \varphi_2 = \varphi_0 \quad (0 < \theta < \pi/2); \quad \varphi_1 = \varphi_2 = -\varphi_0 \quad (\pi/2 < \theta < \pi).$$

- ▶ 轴对称通解： $\varphi_1 = \sum_{n=1}^{\infty} a_n R^n P_n$; $\varphi_2 = \sum_{n=1}^{\infty} \frac{b_n}{R^{n+1}} P_n$;

- ▶ ... (课堂推导)